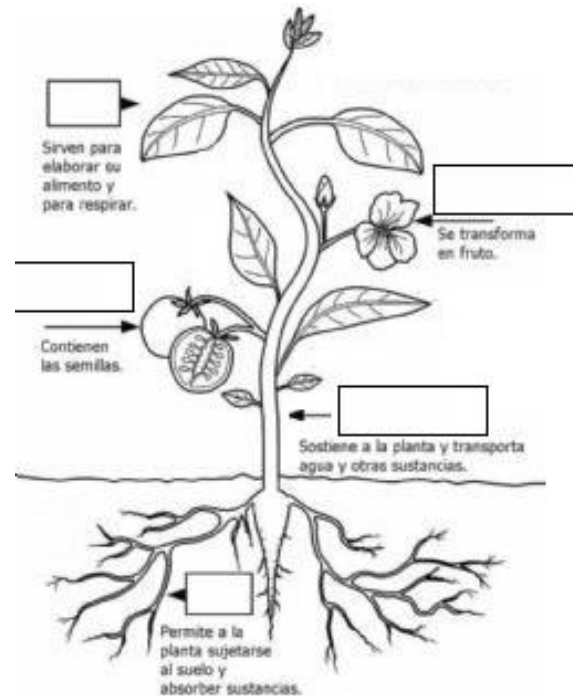


Lunes 4 de noviembre: REPASAMOS PARA LA EVALUACIÓN DE CS. NATURALES

- Escribe el nombre de cada parte de las plantas:



- Recorta y pega, de forma ordenada, el ciclo de vida de las plantas.

1 2 3 4 5 6

**El Ciclo de Vida de las Plantas**

Martes 5 de noviembre

- Resuelve las siguientes sumas y restas:

$$\begin{array}{r} 341 \\ + 157 \\ \hline \end{array} \quad \begin{array}{r} 794 \\ + 171 \\ \hline \end{array} \quad \begin{array}{r} 981 \\ + 46 \\ \hline \end{array}$$

$$\begin{array}{r} 612 \\ - 241 \\ \hline \end{array} \quad \begin{array}{r} 722 \\ - 541 \\ \hline \end{array} \quad \begin{array}{r} 947 \\ - 453 \\ \hline \end{array}$$

- Lee, de forma autónoma, el siguiente texto:

Enrique es un señor muy amable. María es una señora que está embarazada. Juan iba sentado en el autobús y le cedió el sitio a María. Ella, complacida, le dio las gracias y le regaló una sonrisa.

- Completa el siguiente cuadro, con las palabras (del texto anterior) que se indiquen:

Sustantivos	Adjetivos	Verbos
Enrique	amable	regaló

Miércoles 6 de noviembre

REPASAMOS PARA LA EVALUACIÓN DE LENGUA

- Lee, de forma autónoma, el siguiente texto:

Había una vez un pirata que tenía un loro y un barco. Con el barco navegaba por todos los mares y con el loro charlaba, porque su loro era un loro parlanchín.




- Responde, de forma completa, las siguientes preguntas:
1. ¿Cuáles son los personajes de la historia?
  2. Imagina y escribe: ¿Cómo podría continuar esta historia?
- Completa el siguiente cuadro, con las palabras que se indiquen:

Sustantivos	Adjetivos	Verbos

Jueves 7 de noviembre

- ¡A jugar! Escribe en el siguiente crucigrama los verbos escondidos. Para completarlo, deberás buscar el número con la imagen correspondiente. ¡Puedes guiarte del ejemplo!



- Me dictan 10 números del 0 al 999. Luego, ordénalos de mayor a menor.

Lunes 11 de noviembre

REPASAMOS PARA LA EVALUACIÓN DE MATEMÁTICA

- Resuelve las siguientes situaciones problemáticas, de forma completa:
1. Pedro compro 1 chupetín por \$128 y luego un alfajor por \$537. ¿Cuánto dinero gasto en total?
  2. Martina fue al kiosco y gastó \$750 en caramelitos, si pago con \$849, ¿Cuánto dinero le dieron de vuelto?

- Recorta y pega los billetes y monedas necesarios para pagar cada compra:



Martes 12 de noviembre

- Me dictan 15 números del 0 al 999. Luego, elige 7 números dictados y escribe sus nombres.
- ¡A jugar! Escribe los verbos que realiza cada niño y luego, búscalos en la sopa de letra. Recuerda marcar cada verbo con un color diferente.



Miércoles 13 de noviembre

REPASAMOS PARA LA EVALUACIÓN DE CS. SOCIALES

- Lee las siguientes definiciones y luego escribe si es un TRABAJO ARTESANAL O INDUSTRIAL:

Los productos hechos por muchas personas, en fábricas, usando máquinas son productos \_\_\_\_\_.

En cambio, los productos hechos generalmente por una persona, sin maquinarias, son productos \_\_\_\_\_.

• Observa, con atención, las siguientes imágenes y luego escribe si es un PRODUCTO ARTESANAL O INDUSTRIAL:














D	R	L	R	C	O	S	E	R
R	O	N	R	O	C	Z	R	
C	C	R	I	Q	R	O	R	A
N	O	C	M	E	M	N	O	O
S	N	C	R	I	N	D	C	N
N	I	R	I	C	R	U	E	N
O	A	U	I	N	E	C	V	I
B	R	O	A	E	A	I	N	E
P	D	N	A	D	A	R	M	A















Jueves 14 de noviembre

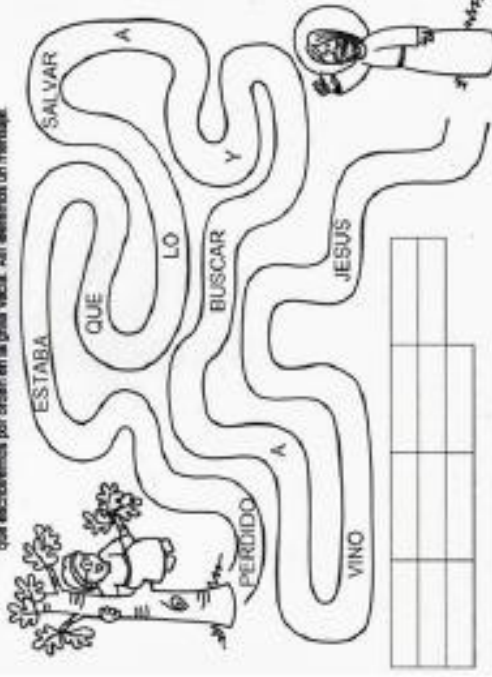
- Me dictan 15 números del 0 al 999. Luego, elige 7 números dictados y escribe sus nombres.
- ¡A jugar! Escribe los verbos que realiza cada niño y luego, búscalos en la sopa de letra. Recuerda marcar cada verbo con un color diferente.






Zaqueo,  
baja enseguida,  
porque hoy tengo  
que alojarme en tu casa

Seguimos el camino que hace Jesús hasta llegar a Zaqueo. En el trayecto, iremos descubriendo palabras que escribiremos por orden en la grilla vacía. ¡Allí leemos un mensaje!



El principal mandamiento



Como a ti mismo  
al prójimo

Amarás a Dios  
y...