

1. ¿Quién tiene más dinero?

2. ¿Quién tiene menos dinero?

● ELEGÍ UNA MUJER QUE SEA ESPECIAL EN TU VIDA Y ESCRIBÍ SU NOMBRE Y LOS MOTIVOS POR LOS QUE LA ELEGISTE. RECORTÁ LA TARJETA, PINTALA Y REGALÁSELA EN EL DÍA DE LA MUJER.



QUERIDA
 PARA MÍ SOS UNA SÚPER MUJER PORQUE:

 TE QUIERO MUCHO
 8 DE MARZO

Hoy me siento súper-héroe,
 voy a cumplir mi misión,
 haré que todos me aplaudan
 y saldré en televisión.

Con mi máscara y mi capa,
 el reloj y el cinturón
 (dicen que tienen poderes...
 ¡el poder lo tengo yo!)



Activi
 Ve a Cc

Robin está jugando con
 Rufo. Rufo es un perro
 color marrón y blanco.
 Rufo necesita un baño.



De 2 en 2


2 6 12

De 5 en 5

5 20

De 10 en 10

10 40 90



$$26 + 13 =$$

$$\square + \square + \square + \square =$$

$$\square + \square = \square$$

$$40 + 21 =$$


$$\square + \square + \square + \square =$$


$$\square + \square = \square$$


$$34 + 12 =$$


$$\square + \square + \square + \square =$$

$$\square + \square = \square$$


Yo puedo 


Veloz como una 


Y  con mis 


Más alto que una 

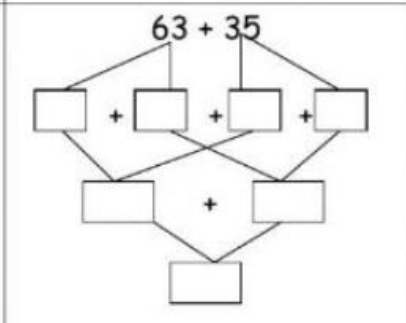
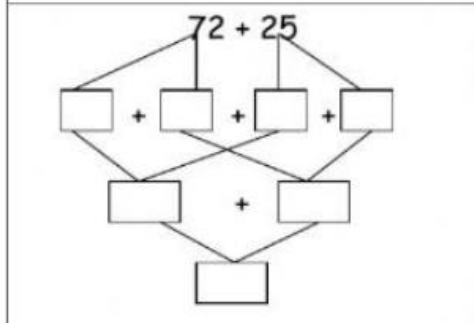
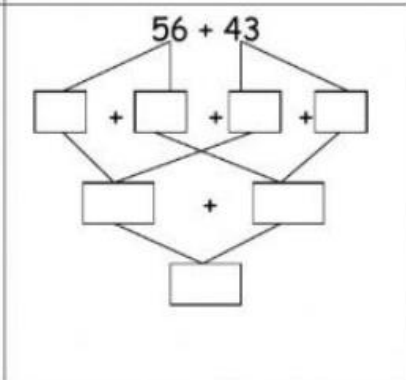
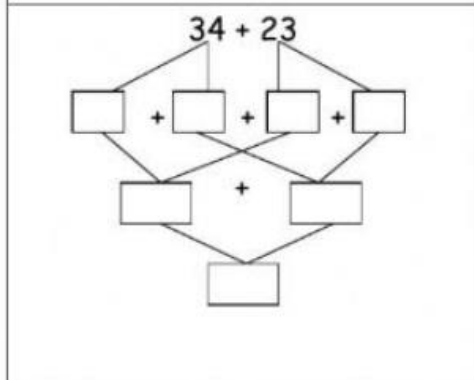
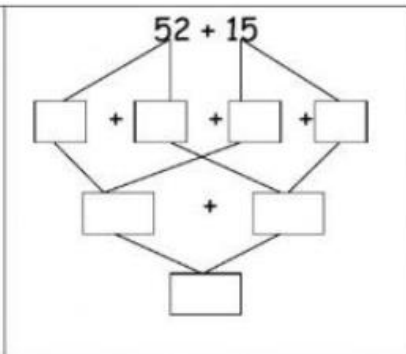
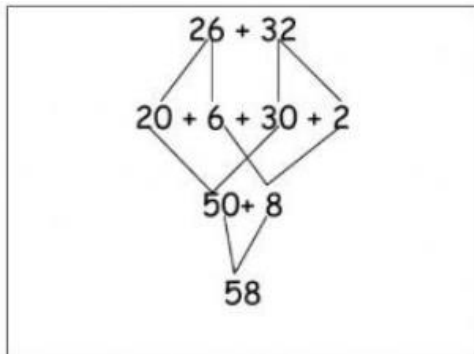
Puedo  tan rápido

Mis  que muy pronto




Yo habré cruzado el 

Con  y buenos 

Muy  yo seré.



 triángulo	
 rectángulo	
 círculo	
 cuadrado	



¿QUÉ LLEVÁS ADENTRO DE TU MOCHILA?





INTELIGENCIA



VELOCIDAD



LANZARRAYOS



RESISTENCIA



FUERZA



ELASTICIDAD

I	N	T	E	L	I	G	E	N	C	I	A
N	P	O	D	E	R	U	K	I	A	J	F
T	V	E	L	O	C	I	D	A	D	X	U
R	E	S	I	S	T	E	N	C	I	A	E
O	G	U	H	Ñ	E	L	C	A	Z	A	R
L	A	N	Z	A	R	R	A	Y	O	S	Z
E	L	A	S	T	I	C	I	D	A	D	A

¿CUÁLES SON TUS COLORES PREFERIDOS?





ANIMALES QUE VUELAN

- MARIPOSA
- COLIBRÍ
- PALOMA
- MOSCA
- SAPO
- GOLODRINA

TIENEN FORMA REDONDA

- MONEDA
- BOTÓN
- PIZZA
- LIBRO
- RUEDA
- ANILLO

caramelos Los dulces son


Papá macetas las riega

muy La huele rosa bien

¿CUÁL ES EL PAQUETE DE GALLETITAS QUE TIENE EL PRECIO MAYOR?



¿CUÁL ES EL JUGO QUE TIENE EL PRECIO MENOR?



✿ Dibujen los billetes y monedas necesarios para armar las siguientes cantidades.

\$35

\$66

