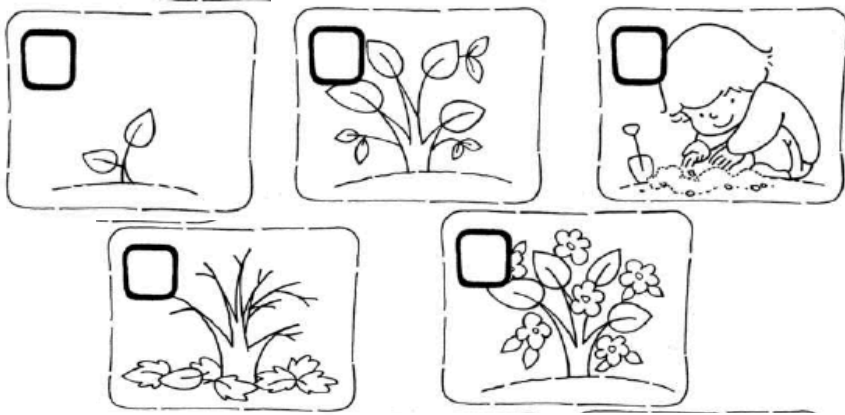


TAREA SEMANAL DEL 4 AL 14 DE NOVIEMBRE.

PARA REALIZAR EL DÍA: **LUNES 4 DE NOVIEMBRE.**

1. **Enumera** los cuadros del 1 al 5.



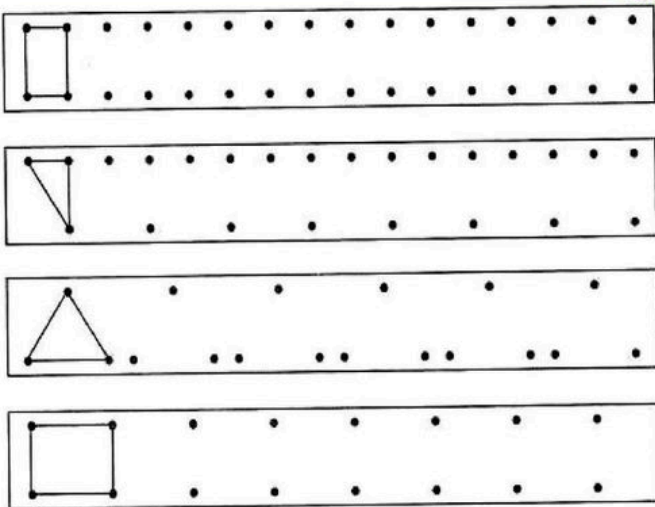
2. **Escribe** una oración para cada cuadro.

3. **Realiza** la página 155 del libro.

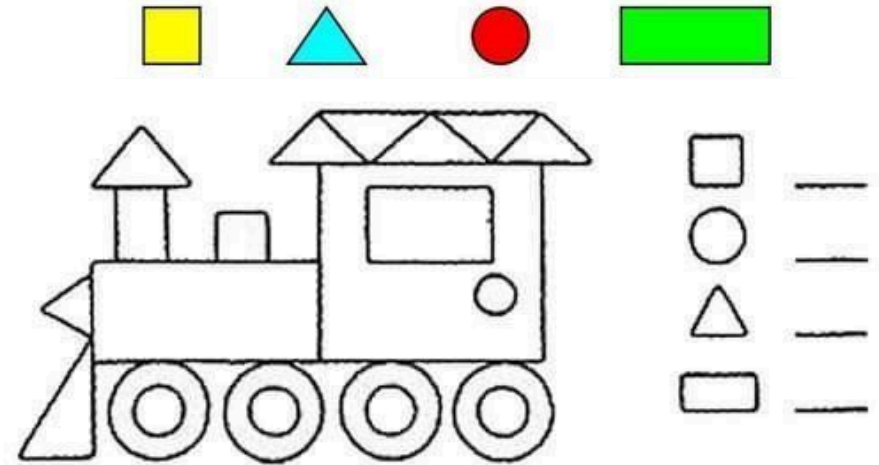
4. **Realiza** la página 34 del cuadernillo de convivencia.

PARA REALIZAR EL DÍA: **MARTES 5 DE NOVIEMBRE.**

1. **Construye** las figuras geométricas, uniendo los puntos.



2. **Pinta** las figuras geométricas que forman el dibujo, siguiendo el patrón de colores.




3. **Escribe** sobre el renglón, cuántas figuras hay de cada tipo.

4. **Realiza** la página 51 del cuadernillo de tareas.

PARA REALIZAR EL DÍA: **MIÉRCOLES 6 DE NOVIEMBRE.**

1. **Observa** la secuencia de imágenes.



2. **Escribe** una oración para cada cuadro, **contando** qué sucede.

3. **Pinta** los dibujos.

4. **Realiza** la página 213 del libro de actividades.

PARA REALIZAR EL DÍA: **JUEVES 7 DE NOVIEMBRE.**

1. **Resuelve** las situaciones problemáticas.


LOLA TIENE \$20. FUE AL KIOSCO Y GASTÓ \$6 EN UN TURRÓN Y \$9 EN CARAMELOS. ¿CUÁNTO GASTÓ EN TOTAL?

RESPUESTA:



PARA SU CUMPLEAÑOS, MATEO INFLÓ 12 GLOBOS ROJOS Y 15 AZULES. ¿CUÁNTOS GLOBOS TIENE EN TOTAL?

RESPUESTA:



TIAGO TENÍA \$18. FUE AL KIOSCO Y GASTÓ \$7. ¿CUÁNTO LE SOBRO?

RESPUESTA:



ORIANA NECESITA 18 GLOBOS PARA SU CUMPLEAÑOS. YA INFLÓ 12. ¿CUÁNTOS LE FALTAN INFLAR?

RESPUESTA:



2. **Realiza** estas sumas y restas utilizando la grilla.


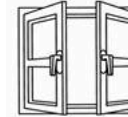
$42 + 17 =$ $33 + 12 =$ $18 + 23 =$

$35 - 17 =$ $56 - 20 =$

3. **Realiza** la página 57 del cuadernillo de tareas.

PARA REALIZAR EL DÍA: **LUNES 11 DE NOVIEMBRE.**

1. **Escribe** el nombre de estos dibujos. ¡Cuidado! Algunos comienzan con V y otros con B.







2. **Elige** cuatro dibujos y **escribe** una oración para cada uno de ellos.

3. **Realiza** la página 64 del cuadernillo de tareas.

PARA REALIZAR EL DÍA: **MARTES 12 DE NOVIEMBRE.**

1. **Dibuja** los billetes y monedas que se necesitan para comprar estos productos.

| | |
|---|--|
|  | |
|  | |
|  | |
|  | |

2. **Escribe** en el cuadrado, el valor que tienen estos productos.

| | | |
|--|--|--|
|  |  |  |
|--|--|--|

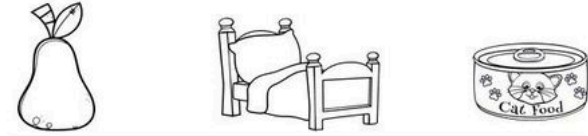
| | | |
|---|---|---|
|  |  |  |
|---|---|---|

3. **Realiza** la página 59 del cuadernillo de tareas.

PARA REALIZAR EL DÍA: **MIÉRCOLES 13 DE NOVIEMBRE.**

1. **Lee** las adivinanzas y **pinta** el dibujo correcto.

Blanca por dentro, verde por fuera. Si no sabes, espera. ¿Qué es?



¿Qué cosa es? ¿Qué cosa es? Que corre mucho y no tiene pies.



Blanca es, la gallina lo pone, con aceite se fríe y con pan se come. ¿Qué cosa es?



Es alargada y naranja, se la comen los conejos para así llegar a viejos.

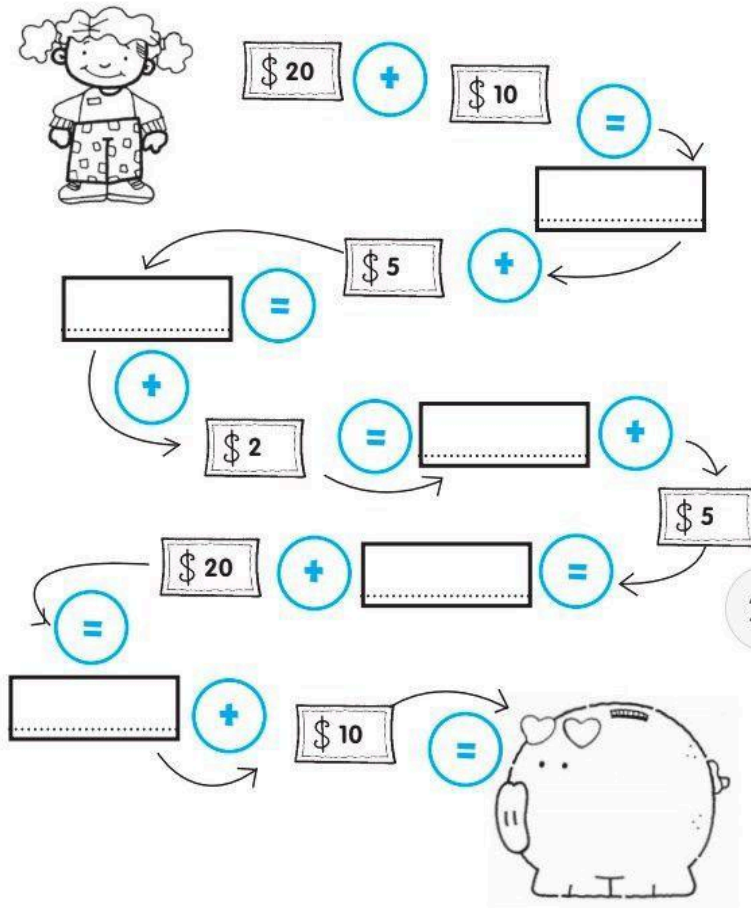


2. **Escribe** en nombre de los elementos que no pintaste.

3. **Con ayuda, realiza** las páginas 42 y 43 del cuadernillo de convivencia.

PARA REALIZAR EL DÍA: **JUEVES 14 DE NOVIEMBRE.**


1. **Calcula** mentalmente cuánto dinero tiene Paula en su alcancía.

















2. **Ordeno** las palabras y **escribo** la oración.

| | | | | |
|--|--------|--------|---------|----|
|  | jardín | En | hay | el |
| | flores | | muchas | |
|  | muy | está | fea | |
| | bruja | La | | |
|  | vuela | hacia | la | |
| | El | dragón | montaña | |

3. **Busca** y **encuentra** los animales que están en el recuadro de abajo. **Escribe** en el cuadrado, cuántos hay de cada uno.



| | | | | | | | | | |
|---|----------------------|---|----------------------|---|----------------------|---|----------------------|---|----------------------|
|  | <input type="text"/> |  | <input type="text"/> |  | <input type="text"/> |  | <input type="text"/> |  | <input type="text"/> |
|  | <input type="text"/> |  | <input type="text"/> |  | <input type="text"/> |  | <input type="text"/> |  | <input type="text"/> |
|  | <input type="text"/> |  | <input type="text"/> |  | <input type="text"/> |  | <input type="text"/> | | <input type="text"/> |

¡Tarea cumplida! ¡Buen fin de semana!

